

Test de MATHÉMATIQUES oral

1

**Dans un troupeau, il y 25 moutons blancs et 17 moutons noirs.  
Combien y a-t-il de moutons dans le troupeau ?**

Réponse : .....

(L'administrateur écrit la réponse donnée par l'enfant.)

A

2

**Problème : Une mère de famille va au marché avec 800 F.  
Après avoir acheté du riz et de la viande, il lui reste 100 F.  
Combien a-t-elle dépensé ?**

Réponse : .....F

B

3

**Un père de famille a 60 ans. Il a eu son premier fils à l'âge de 30 ans.  
Quel âge a aujourd'hui ce fils?**

L'âge du fils est : ..... ans

C

4

Estimation de mesure :

Un nouveau né mesure :

- 1 m
- 1/2 m
- 1/4 m
- 3/4 m

Un camion pèse :

- 7000 tonnes
- 7 tonnes
- 700 tonnes
- 70 tonnes

Un puits a une profondeur de :

- 10 m
- 100 m
- 1000 m
- 10000 m

5

**Problème :** *Pour le petit déjeuner de la famille, Moussa achète 1 kg de pain à 150 F et du lait à 125 F. Combien paie-t-il ?*

Réponse:.....F

D

E

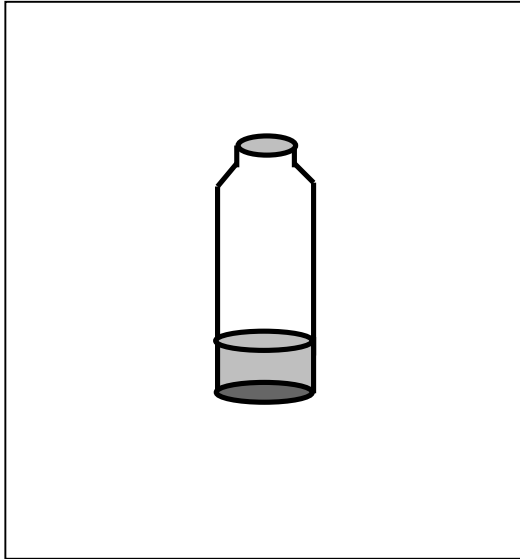
F

G

6

Estime la quantité d'eau dans les récipients dessinés.

*Regarde le premier dessin.*



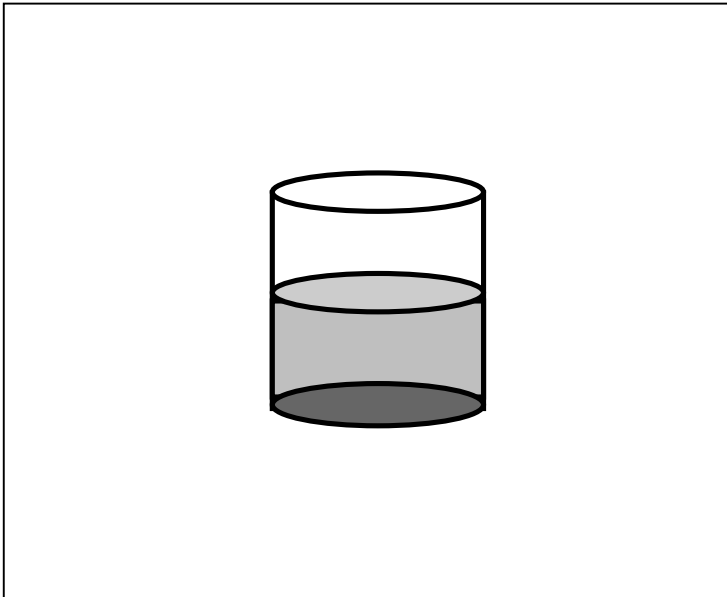
*Si la bouteille pleine fait un litre,  
sur le dessin, la quantité d'eau est de :*

- a 1 litre
- b trois quarts de litre
- c un quart de litre

(L'administrateur entoure la lettre devant la réponse donnée par l'enfant.)

H\*

*Regarde le deuxième dessin.*



*Si le fût plein fait 20 litres,  
sur le dessin, la quantité d'eau est de :*

- a 30 litres
- b 10 litres
- c 5 litres

(L'administrateur entoure la lettre devant la réponse donnée par l'enfant.)

7

**Problème:** *Une moto consomme 4 litres d'essence pour parcourir 100 km. Elle parcourt une distance de 600 km. Quelle quantité d'essence, la moto a-t-elle consommée ?*

Réponse: .....l.

I\*

J\*

Quelle heure indique chaque horloge ?



Il est .....h.....

K\*



Il est .....h.....

L\*

9

**Maman a 25 beignets. Elle veut les partager entre ses 5 enfants.  
Combien de beignets aura chaque enfant?**

Réponse: .....

M\*

10

**Pour faire une robe à Sokhna, Maman a besoin de 5 mètres de tissu.  
Le tissu coûte 1000 F le mètre. Combien Maman doit payer pour  
avoir ses 5 m de tissu?**

Réponse: .....

N\*

Test de MATHÉMATIQUES écrit

1

Ecris en chiffres le nombre écrit en lettres.

Exemple :	sept	.....
	dix huit	.....

a      quinze      .....

b      vingt-quatre      .....

c      quatre-vingts      .....

A     

B     

C     

2

(+) (-) ou (x) ?

Ecris le bon signe à la place du point pour trouver le résultat :

Exemple :	18
	·
	15
	—
	= 03

$$\begin{array}{r} 5 \\ \cdot \\ 3 \\ \hline = 8 \end{array}$$

$$\begin{array}{r} 12 \\ \cdot \\ 2 \\ \hline = 10 \end{array}$$

D     

E

$$\begin{array}{r} 39 \\ \cdot \\ 18 \\ \hline = 21 \end{array}$$

$$\begin{array}{r} 2 \\ \cdot \\ 8 \\ \hline = 16 \end{array}$$

3

Effectue les opérations suivantes.

$$\begin{array}{r} 5 \\ + 4 \\ + 11 \\ \hline = \end{array}$$

$$\begin{array}{r} 80 \\ - 14 \\ \hline = \end{array}$$

4

Dans une famille, il y a 6 garçons et 3 filles.  
Combien y a-t-il d'enfants dans la famille ?  
(entoure la bonne réponse)

- a             $6 \times 3 = 18$  enfants
- b             $6 + 3 = 9$  enfants
- c             $6 - 3 = 3$  enfants

F

G

H

I

J

5

Mets le signe qui convient (< ; > ; =)  
pour comparer les nombres suivants:

Exemple :	130 .....150
	60 ..... 30

907 ..... 970

110 ..... 101

1280 ..... 1038

1099 ..... 1188

6

Exemple :
Ecris en chiffres le nombre: « trois mille »
Réponse:.....

Ecris en chiffres le nombre: « cent trois »

Réponse:.....

Ecris en chiffres le nombre: « six cent vingt-cinq »

Réponse:.....

Ecris en chiffres le nombre: « mille deux cent neuf »

Réponse:.....

Ecris en chiffres le nombre: « mille quatre cent quarante-neuf »

Réponse:.....

K

L

M

N

O

P

Q

R

7

Effectue les opérations suivantes:

$$408 \times 21 =$$

$$524 : 4 =$$

S

T

8

Estime la quantité d'eau dans les récipients dessinés.

(Entoure la bonne réponse)


- La bouteille pleine fait un litre  
Sur le dessin, la quantité d'eau est de :

1 litre

0,75 litre

0,25 litre

U




- Le fût plein fait 10 litres  
Sur le dessin, la quantité d'eau est de :

3 litres

1 litre

5 litres

V



9

Une voiture consomme 9 litres d'essence aux 100 km.

Elle parcourt une distance de 400km.

Quelle quantité d'essence, la voiture a-t-elle consommée ?

(Complète la réponse.)

La voiture a consommée.....litres d'essence.

W

10

Une cour carrée a 36 m de périmètre.

Quelle est la longueur de son côté ?(Complète la réponse.)

La longueur du côté de la cour carrée est égale à .....m.

X

11

Quelle heure indique chaque horloge ?

Exemple :



Il est .....h.....



Il est .....h.....

Y



Il est .....h.....

Z

# **Test de français écrit**


**- items d'ancrage des tests PASEC -**

1

Entoure l'image qui va avec le mot.

exemple :

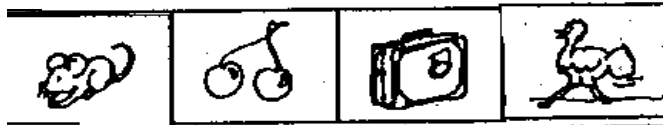
**tasse**



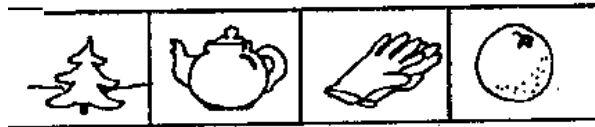
**main**



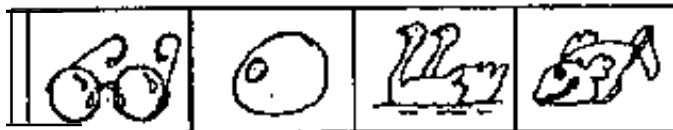
**souris**



**orange**



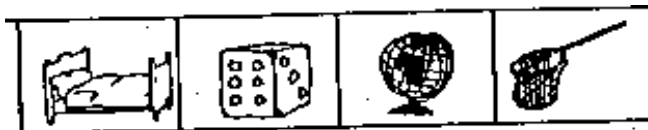
**poisson**



**cinq**



**lit**



A

B

C

D

E

F

2

**Entoure la bonne fin de phrase :****exemple :****papa lit un****parapluie****banane****livre****gare****ali prend le train à la oiseau****école****cahiers****le paysan cultive des légumes****moutons****banc****les enfants vont boire au tête****robinet****bureau****les maîtres sont devant le sonnerie**

G

H

I

J

## ***récréation***

**3****Entoure le bon début de phrase :****exemple :****je****vous****nous****fermez votre livre****tu****il****je****vais à l'école**

K

**je****il****vous****sortez en récréation**

L

**tu****nous****vous****parles trop**

M

4

Ecris la phrase dans l'ordre :

**exemple :**

**journal**

**papa**

**son**

**ouvre**

.....

**maître**

**écoutons**

**nous**

**le**

.....

.....

**les**

**jouent**

**ballon**

**au**

**enfants**

.....

.....

N

O

**5****Entoure le verbe accordé correctement :****exemple :**

**rentrent**  
**-Maman rentre à la maison**  
**rentres**

**-Mon père et moi**      **va**  
**vont à la foire**  
**allons**

P 

**Le chauffeur**      **ralentit**      **à l'entrée du**  
**ralentis**      **village**  
**ralentissent**

Q 

**Le vendeur, dès le lever du jour**      **expose**      **ses marchan-**  
**exposes**      **dises**  
**exposent**

R

6

**Entoure le pronom personnel qui remplace les mots soulignés.**

**exemple :**

**Pierre va à l'école,**

**il**

**elle va à l'école**

**ils**

- **La fête aura lieu dimanche,**

**elles**

**nous**

**elle**

**aura lieu dimanche**

S

- **Les élèves du CM2 pensent à leur examen,**

**en**

**les élèves du CM2 y pensent  
le**

T

- **Ali et moi allons au stade  
aujourd'hui,**

**ils**

U

***nous allons au stade aujourd'hui***  
***vous***

**7**

**Dans une boîte de médicaments,  
on trouve la notice suivante :**  
*Lisez-la attentivement et répondez aux  
propositions*

**PRIMALAN****INDICATIONS :**

- Dérangements intestinaux et plus spécialement:
  - diarrhées
  - vomissements.

**POSOLOGIE:**

- Adultes : 1 à 6 comprimés par jour.
- Enfants : de 3 à 5 ans  $\frac{1}{2}$  comprimé deux fois par jour;  
au dessus de 5 ans:  $\frac{1}{2}$  comprimé 2 à 4 fois par jour.

A prendre au début des repas en avalant avec un peu d'eau,  
sans croquer.

**PRECAUTIONS D'EMPLOI :**

L'usage prolongé de ce médicament peut entraîner  
des maladies du rein.

**PROPOSITIONS :**

**1. Est-ce que ce médicament guérit la diarrhée ?**  
(Mettre une croix en face de la bonne réponse)

- oui

- non

- le texte ne le dit pas

V

**2. Un adulte peut prendre 8 comprimés par jour.**  
(Mettre une croix en face de la bonne réponse)

- oui
- non
- le texte ne le dit pas

W

**3. Un enfant qui a plus de 5 ans peut prendre :**  
(Mettre une croix en face de la bonne réponse)

- 1 à 6 comprimés par jour
- 1 comprimé deux fois par jour
- ½ comprimé deux à quatre fois par jour
- le texte ne le dit pas

X

**4. On doit prendre le comprimé :**  
(Mettre une croix en face de la bonne réponse)

- en le croquant
- en le suçant
- en l'avalant
- le texte ne le dit pas

Y

**5. Voici les noms de certaines maladies. Si l'on prend le médicament trop longtemps, quelle maladie peut-on risquer d'attraper?**

(Mettre une croix en face de la bonne réponse)

- l'angine
- les maux de tête
- les maladies du rein

Z

**- je ne sais pas**



**hINEADE**

**U. CORNELL**

**INRA**

**TEST ORAL DE COMPÉTENCES  
DE VIE COURANTE**

1

Comment peut-on soigner les bébés atteints de diarrhée ?

a) les couvrir pour qu'ils transpirent.	
b) leur faire boire de l'eau bouillie sucrée et salée.	
c) ne rien leur donner à manger jusqu'à ce que la diarrhée soit arrêtée .	
d) les faire vacciner	

A

2

Pourquoi est-il important de se faire vacciner ?

a) pour éviter d'attraper certaines maladies graves	
b) pour être plus intelligent	
c) pour guérir certaines maladies graves	

B

3

L'enfant nourri au sein :

a) tombe facilement malade	
b) résiste mieux aux maladies	
c) a une mauvaise dentition	
d) a une bonne vision	

C

4

Comment peut-on rendre une eau potable ?

a) Couvrir l'eau avec un morceau de tissu	
b) filtrer l'eau avec un morceau de tissu	
c) mettre l'eau au frais	
d) mettre de l'eau de javel.	

D

5

Le paludisme se transmet par :

a) le moustique	
b) la salive	
c) la mouche	
d) la sueur	

E

6

Comment lutter contre le paludisme?

a) détruire les flaques d'eau autour de la maison	
b) mettre de l'encens dans les chambres	
c) se faire vacciner	
d) boire régulièrement de l'eau bouillie	

F

7

Quelle aiguille doit on utiliser pour faire une piqûre ?

	Vrai	Faux
a) une aiguille utilisée sur <i>une seule</i> personne		
b) une aiguille neuve <i>jamais</i> utilisée		
c) une aiguille utilisée et lavée à l'eau <i>froide</i>		
d) une aiguille utilisée et lavée à l'eau <i>chaude</i>		

G

8

Comment peut-on se protéger contre le SIDA ?

En urinant aussitôt après chaque rapport	
En utilisant un préservatif pendant chaque rapport	
En attachant des amulettes avant chaque rapport	
En se lavant à grande eau après chaque rapport	

H

9

Comment se transmet le SIDA?

- En buvant dans le verre d'une personne infectée	
- En ayant des relations sexuelles avec une personne infectée	
- En travaillant au même endroit avec une personne infectée	
- En embrassant une personne infectée	

I

10

Comment un couple peut-il limiter le nombre d'enfants dans la famille ?

a) prendre la pilule	
b) appliquer des poudres sèches	
c) éviter les nuits de pleine lune	
d) attacher des amulettes	

J

11

Quand tu traverses une route, tu dois :

a) traverser en courant	
b) regarder à droite et à gauche avant de traverser	
c) traverser très lentement	
d) faire le signe d'arrêter les voitures	

K

12

Quel insecte parmi les suivants détruit les récoltes ?

a) le moustique	
b) l'abeille	
c) le criquet	
d) la guêpe	

L

**13**

Les députés de ton pays sont :

a) élus par tous les citoyens, hommes et femmes	
b) choisis par le président de ton pays	
c) élus par tous les hommes mais pas par les femmes	
d) élus par les pères de famille seulement	

M

**14**

Où est ce que l'on peut chercher :

Un certificat de mariage

.....

un extrait de naissance

.....

un casier judiciaire

.....

un certificat médical

.....

N

O

P

Q

**15**

A quel âge peut-on voter dans ton pays?

.....

R