

## TEST ORAL DE FRANCAIS DE 21 A 23 ANS

1

Que signifie cette phrase ?

- a. Les jeunes ont nettoyé le village proprement
- b. Les jeunes ont transformé le village
- c. Les jeunes ont quitté le village

A

2

Quand aura lieu la réunion ?

- a. Le midi
- b. Le soir
- c. L'après-midi
- d. Le matin

B

3

L'oiseau est-il

- a. unicolore ?
- b. bicolore ?
- c. incolore ?
- d. tricolore ?

C

4

De quel type de document s'agit-il ?

- a. D'un conseil d'hygiène
- b. D'un message scientifique
- c. D'un message publicitaire
- d. D'une consigne pédagogique

D

5

- a. je bâtis la maison
- b. nous choisirons nos livres
- c. il a rempli la bouteille

E

# TEST ECRIT DE FRANCAIS DE 21 A 23 ANS

1



Observe l'image. Entoure la phrase qui correspond le mieux à l'image.

- a. Le maître est sur le tableau
- b. Le maître est devant le tableau
- c. Le maître est sous le tableau

A

2

Entoure le bon début de phrase.

- a. je
- b. il sortez en récréation
- c. vous

B

3

Entoure la bonne fin de phrase.

Le paysan cultive des

- a. légumes
- b. cahiers
- c. moutons

C

4

« Dites-moi, les garçons, qu'est-ce que vous ..... maintenant ? »

Complète la phrase en choisissant une seule réponse.

- a. ferez
- b. faisiez
- c. faites

D

5

Observe l'emploi du temps de Dimby ci-après :

	Lundi	Mardi	Mercredi	Jeudi	Vendredi
8h à 10h	Anglais				Anglais
10h à 12h	Maths		Français	Méthodologie	
12h à 14h	Malagasy	Psycho-péda	Sciences tech	Français	
14h à 16h		Pédagogie		Maths	
16h à 18h		E.C.A			

Entoure la bonne réponse parmi les 4 proposées :

Quel jour Dimby est-il libre toute la matinée ?

- a. Lundi
- b. Mardi
- c. Mercredi

E

6

Ecris la phrase dans l'ordre :

les      jouent      ballon      au      enfants

.....

F

7

- Il faut que tu termines tes devoirs avant de manger. Dépêche-toi !
- Mais cet exercice de calcul est vraiment difficile. Tu peux m'aider ?
- Ah ! non ! Essaie de réfléchir encore un petit peu.
- Je me dépêche et j'arrive dans un instant »

Que se passe-t-il dans cette conversation ?

- a. La mère a aidé son fils à terminer l'exercice
- b. La mère a interdit son fils de dîner
- c. L'enfant a déjà trouvé la solution tout seul
- d. L'enfant doit encore terminer son travail

G

8

Lis attentivement la notice suivante :

**PRIMALAN**

**INDICATIONS :**

*Dérangements intestinaux et plus spécialement:*

- diarrhées
- vomissements.

**POSOLOGIE:**

- Adultes : 1 à 6 comprimés par jour.

- Enfants : 1/2 comprimé deux fois par jour;

*A prendre au début des repas en avalant avec un peu d'eau, sans croquer.*

**Entoure la bonne fin de phrase :**

On doit prendre le comprimé :

- a. en le croquant
- b. en le suçant
- c. en l'avalant

9

Lis le document suivant :

*Depuis plusieurs années, les pharmacies proposent du lait en poudre et des biberons, mais les résultats ne répondent pas aux espérances des mamans. Sur le plan psychologique, l'allaitement artificiel est loin de les satisfaire ; d'autre part, dans un pays où la chaleur favorise un développement rapide des germes et des virus, biberons et tétines sont des lieux favorables à la transmission des maladies. C'est pourquoi on pense que le lait maternel est le meilleur aliment pour les nouveau-nés.*

**Entoure la bonne réponse parmi les 4 proposées :**

Que recommande ce document ?

- a. lait maternel
- b. lait de vache
- c. lait en poudre
- d. lait concentré

H

I

10

« Aujourd'hui, Frédéric est arrivé dans notre classe. Le maître a dit qu'il faut que nous ..... gentils avec lui »

**Complète la phrase en choisissant une seule réponse.**

- a. étions
- b. serons
- c. serions
- d. soyons

J

11

**Lis le document suivant :**

*Pour courir, deux pattes suffisent ; c'est ce que l'autruche démontre parfaitement à plus de soixante-dix kilomètres à l'heure. Elle se classe dans le peloton de tête des champions de vitesse de la savane. Mais n'oublions pas que l'autruche est un oiseau ; comme tel, elle possède une paire d'ailes. Trop faibles pour supporter en vol les cent cinquante kilos que pèse leur propriétaire, celles-ci lui servent à maintenir son équilibre lorsqu'elle court parmi les vastes espaces de la savane.*

**Entoure le meilleur titre pour ce texte :**

- a. Le rapide quadrupède
- b. L'oiseau coureur
- c. L'élevage d'autruche
- d. L'oiseau du désert

K

**Lis les renseignements suivants sur le Compte Épargne TAHIRY d'une banque africaine**

***TAHIRY, c'est la simplicité***

*Un apport minimum de 50 000 Ariary, et des versements libres quand vous voulez (espèces, chèques, virements...)*

***TAHIRY, c'est la liberté***

*Les retraits sont possibles à tout moment dans la limite du solde disponible. Un minimum de 10 000 Ariary est nécessaire pour maintenir le compte ouvert.*

***TAHIRY, c'est la sécurité***

*Vous bénéficiez gratuitement et automatiquement d'une assurance vie avec un plafond de 4 000 000 Ariary en cas d'accident.*

**Entoure la bonne réponse :**

Aucun apport plancher n'est exigé pour l'ouverture d'un compte épargne TAHIRY

- a. Vrai
- b. Faux
- c. Le texte ne le dit pas

L

Les versements se font seulement par chèque

- a. Vrai
- b. Faux
- c. Le texte ne le dit pas

M

Les retraits sont possibles sous certaines conditions

- a. Vrai
- b. Faux
- c. Le texte ne le dit pas

N

Le titulaire d'un compte épargne TAHIRY reçoit de la banque une pension quand il sera à la retraite.

- a. Vrai
- b. Faux
- c. Le texte ne le dit pas

O

**Lis le texte suivant et répond aux questions :**

**PROSPERER**

*Vers un inventaire des entreprises*

*Le programme de soutien aux micro-entreprises rurales et aux économies régionales (PROSPERER) est lancé pour Analamanga. Un inventaire de toutes les micro-entreprises en activité, formelles ou non, sera réalisé en partenariat avec les communes et les Chambres de Commerce et d'Industrie pour créer une base de données, [...]. En outre, un guichet unique multiservice sera installé dans chaque district de ses 5 régions d'intervention afin d'identifier les besoins des petits opérateurs locaux.*

*[...]PROSPERER financera la construction des infrastructures communales comme les marchés, les unités de transformation et l'ouverture d'une route selon les priorités régionales, outre les formations. Près de 2,8 millions de \$ sont alloués pour servir de fonds de garantie ou de refinancement ou d'investissement auprès des réseaux de micro-finance pour faciliter l'accès des entreprises au crédit.*

*Midi Madagasikara N°7594 du 1er août 2008*

**Entoure la bonne réponse :**

PROSPERER est :

- a. une association villageoise
- b. un programme de soutien aux petites entreprises à la campagne
- c. un établissement bancaire

**P**

Les 2,8 millions de dollars serviront à :

- a. être distribués aux paysans
- b. refinancer les réseaux de micro finance
- c. construire des Chambres de Commerce

**Q**

**TEST ORAL DE MATHÉMATIQUES DE 21 A 23 ANS**

**1**

.....  
.....  
.....  
.....

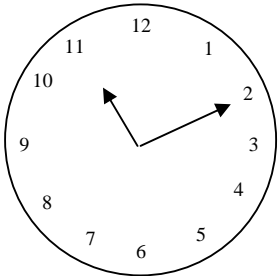
A   
B   
C   
D

**2**

.....  
.....

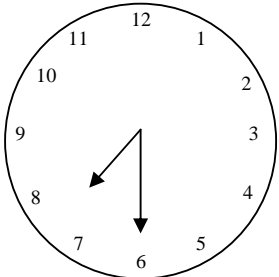
E   
F

**3**



Il est ..... h ..... min

G



Il est ..... h ..... min

H

4

- a. 1 200 Fmg
- b. 6 000 Fmg
- c. 7 200 Fmg

5

Réponse : le nombre de bidons de 4 litres est de .....

6

- a. 700 Ariary
- b. 70 Ariary
- c. 420 Ariary

7

- a. 320 m<sup>2</sup>
- b. 480 m<sup>2</sup>
- c. 160 m<sup>2</sup>

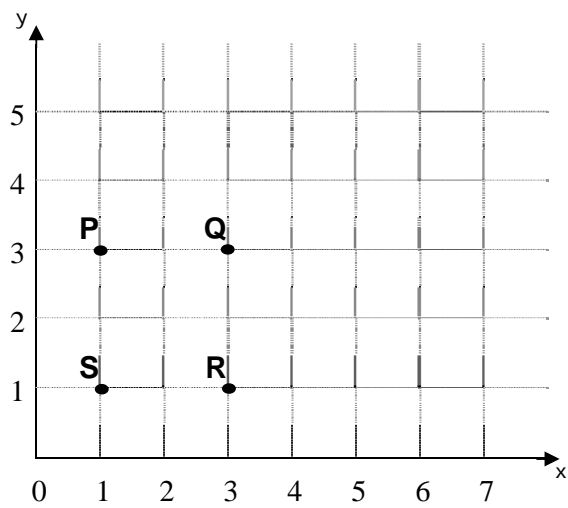
I

J

K

L

8



- a. Le point P
- b. Le point Q
- c. Le point R
- d. Le point S

M

**TEST ECRIT DE MATHÉMATIQUES DE 21 A 23 ANS**

1

Effectue l'addition suivante et entoure la bonne réponse.

$54 + 20,7 =$

- a. 747
- b. 74,7
- c. 261

A

2

Effectue l'opération puis écris le résultat sur les points.

$408 \times 21 =$  .....

$524 : 4 =$  .....

B

C

3

Un commerçant achète un tissu à 12 000 Ariary. Il le fait coudre à 6 000 Ariary. Il vend l'ensemble à 26 000 Ariary.

Quel est son bénéfice ? (Entoure la bonne réponse)

- a. 6 000 Ariary
- b. 8 000 Ariary
- c. 18 000 Ariary
- d. 38 000 Ariary

D

4

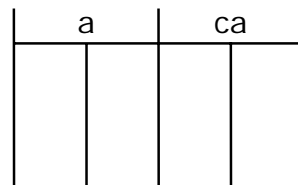
Randria a un jardin de 27,5 a. Pour l'agrandir, il achète un terrain voisin de 750 ca.

Quelle est la nouvelle surface du jardin ?

(Entoure la bonne réponse)

La nouvelle surface du jardin est égale à :

- a. 35 a
- b. 2 835 ca
- c. 200 ca



E

5

Des trois nombres entiers suivants, entoure celui qui est divisible par 3 ?

- a. 5 341 213
- b. 1 523 396
- c. 6 252 807

F

6

Sur un plan à l'échelle 1/20000, une rue a une longueur de 28 mm. Quelle est sa longueur réelle de la rue ?

(Entoure la bonne réponse)

- a. 560 m
- b. 280 m
- c. 560 000 m

G

7

Un acheteur a acquis un ordinateur portable à 2,40 millions d'Ariary (M). Le taux de taxe étant de 20%, quel est le prix hors taxe de l'ordinateur ? (Entoure la bonne réponse)

- a. 2,88 M
- b. 2 M
- c. 2,60 M
- d. 2,20 M

H

8

Un cycliste effectue une ascension de 15 km à la vitesse de 15 km/h, puis la descente à la vitesse de 75 km/h.

Quelle est la durée de la descente ? (Entoure la bonne réponse)

- a. 75 min
- b. 1 h
- c. 12 min
- d. 15 min

I

Quelle est la vitesse moyenne du cycliste ?

(Entoure la bonne réponse)

- a. 90 km/h
- b. 60 km/h
- c. 25 km/h
- d. 45 km/h

9

Le 14 janvier 2011 est un vendredi.

Quel jour de la semaine sera le 14 janvier 2012 ?

(Entoure la bonne réponse)

- a. mercredi
- b. jeudi
- c. vendredi
- d. samedi

Combien de jours comporte l'année 2012 ?

(Entoure la bonne réponse)

- a. 365
- b. 366
- c. 367

10

Des encadrements suivants, entoure celui qui est correct ?

- a.  $1,7 < \sqrt{2} < 1,8$
- b.  $3,9 < \sqrt{2} < 4,1$
- c.  $1,4 < \sqrt{2} < 1,5$
- d.  $\frac{1}{2} < \sqrt{2} < 1$

J

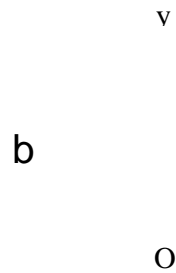
K

L

M

# 11

On considère la figure ci-après :



La symétrie par rapport à la droite (Oy) transforme la lettre b en :

- a. lettre p
- b. lettre q
- c. lettre d

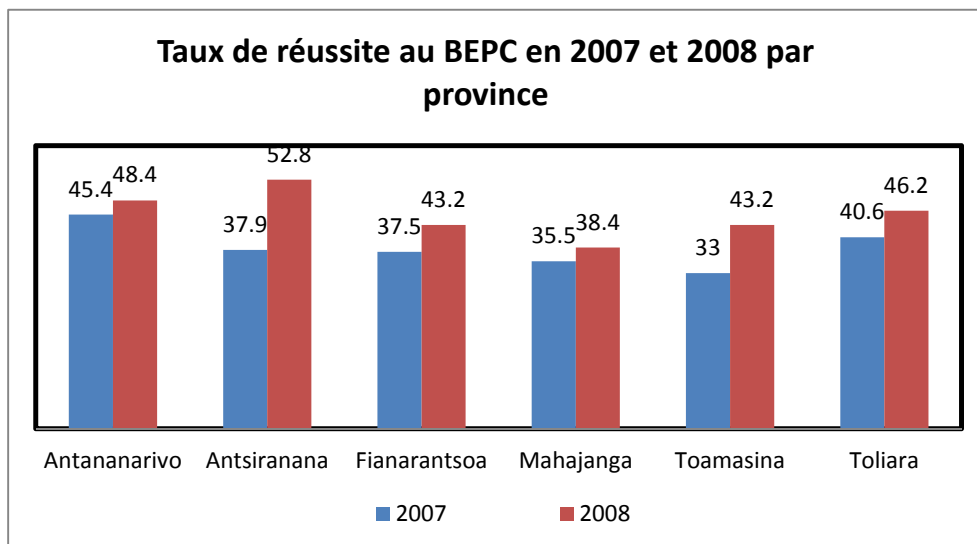
N

La symétrie par rapport au point O transforme la lettre b en :

- a. lettre q
- b. lettre p
- c. lettre d

O

# 12



Dans quelle province et en quelle année le taux de réussite est-il le plus élevé ? (Ecris les réponses sur les points)

Province de : .....

Année : .....

P

Q

13

Une classe est composée de 9 élèves de 9 ans, 17 de 10 ans, 9 de 11 ans et 5 de 12 ans. Quelle est la moyenne d'âge de la classe ? (Entoure la bonne réponse)

- a. 10,25 ans
- b. 10,5 ans
- c. 11 ans

R

14

Des allumettes sont disposées sous la forme indiquée dans les schémas suivants :

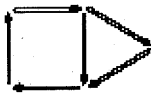


Schéma 1



Schéma 2

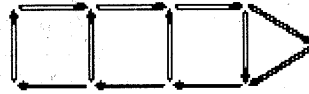


Schéma 3

Si on veut continuer à construire d'autres formes de la même manière, combien d'allumettes faut-il ajouter pour passer d'un schéma au suivant ? (Entoure la bonne réponse)

- a. 2 allumettes
- b. 3 allumettes
- c. 4 allumettes

S

Quel sera le nombre d'allumettes nécessaires pour former le schéma 10 ? (Entoure la bonne réponse)

- a. 30
- b. 33
- c. 36

T

On lance une fois une pièce de monnaie bien équilibrée.

Quelle est la probabilité que le côté pile apparaît ?

(Entoure la bonne réponse)

- a.  $\frac{1}{2}$
- b. 1
- c.  $\frac{1}{4}$
- d. 2

U

On lance une fois deux pièces de monnaie bien équilibrées.

Quelle est la probabilité que le côté pile apparaît au moins sur une pièce ?

(Entoure la bonne réponse)

- a. 1
- b.  $\frac{1}{2}$
- c.  $\frac{3}{4}$

V

**ADINA KAJY AM-BAVA AN'NY 21-23 TAONA**

1

.....  
.....  
.....  
.....

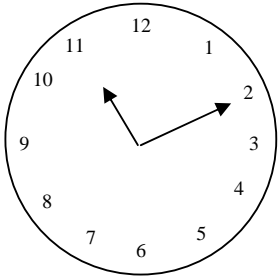
A   
B   
C   
D

2

.....  
.....

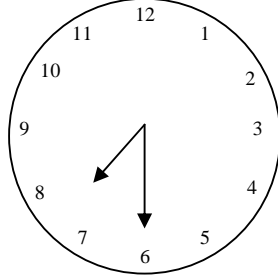
E   
F

3



Amin'ny ..... ora ..... min

G



Amin'ny ..... ora ..... min

H

4

- a. 1 200 la
- b. 6 000 la
- c. 7 200 la

I

5

Valiny : ny isan'ny daba kely 4 litatra dia .....

J

6

- a. 700 Ariary
- b. 70 Ariary
- c. 420 Ariary

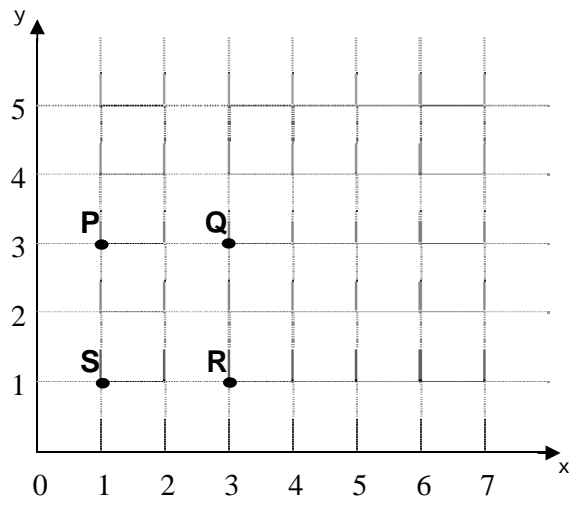
K

7

- a. 320 m<sup>2</sup>
- b. 480 m<sup>2</sup>
- c. 160 m<sup>2</sup>

L

8



- a. Ny teboka P
- b. Ny teboka Q
- c. Ny teboka R
- d. Ny teboka S

M

**ADINA KAJY AN-TSORATRA AN'NY 21-23 TAONA**

**1**

**Ataovy ny fanampiana ary farito anaty boribory ny valiny.**

54 + 20,7 =

- a. 747
- b. 74,7
- c. 261

A

**2**

**Ataovy ny asamarika ary soraty eo amin'ny teboteboka ny valiny.**

408 × 21 = .....

524 : 4 = .....

B

C

**3**

**Nividy lamba 12 000 Ariary ny mpivarotra iray ary nandany 6 000 Ariary izy nampanjairana azy ho akanjo. Namidiny 26 000 Ariary ilay akanjo avy eo.**

**Hoatrinona ny tombombaroetra azony ?**

**(Farito anaty boribory ny valiny)**

- a. 6 000 Ariary
- b. 8 000 Ariary
- c. 18 000 Ariary
- d. 38 000 Ariary

D

**4**

**Nanana zaridaina mirefy 27,5 a Randria. Nividy tany 750 sa teo akaikin'io zaridaina io izy mba hanalehibeazana azy.**

**Firy izao ny velaran'ilay zaridaina ? (Farito anaty boribory ny valiny)**

Ny velaran'ilay zaridaina dia :

- a. 35 a
- b. 2 835 sa
- c. 200 sa

a	sa

E

5

Farito anaty boribory izay azo zaraina 3 amin'ireto isa ireto ?

- a. 5 341 213
- b. 1 523 396
- c. 6 252 807

F

6

Mirefy 28 mm ny arabe iray eo amin'ny saritany iray natao tamina maridrefy 1/20000. Firy ny tena halavan'io arabe io ?

(Farito anaty boribory ny valiny)

- a. 560 m
- b. 280 m
- c. 560 000 m

G

7

2,40 millions d'Ariary (M) no nividianan'olona iray solosaina.

Raha 20% ny tahan'ny haba naloany, hoatrinona ny vidin'io solosaina io afa-kaba ? (Farito anaty boribory ny valiny)

- a. 2,88 M
- b. 2 M
- c. 2,60 M
- d. 2,20 M

H

8

Niakatra lalana mirefy 15 km ny mpihazakazaka am-bisikileta iray tamina hafainganam-pandeha 15 km/ora, ary niverina nidina tamina hafainganam-pandeha 75 km/ora.

Firy ny faharetan'ny fidinana ? (Farito anaty boribory ny valiny)

- a. 75 min
- b. 1 h
- c. 12 min
- d. 15 min

I

Firy ny salan'ny hafainganam-pandehan'ilay mpihazakazaka am-bisikileta ? (Farito anaty boribory ny valiny)

- a. 90 km/h
- b. 60 km/h
- c. 25 km/h
- d. 45 km/h

9

Zomà ny 14 janoary 2011.

Andro inona ny 14 janvier 2012 ? (Farito anaty boribory ny valiny)

- a. alarobia
- b. alakamisy
- c. zomà
- d. sabotsy

Firy andro ny taona 2012 ? (Farito anaty boribory ny valiny)

- a. 365
- b. 366
- c. 367

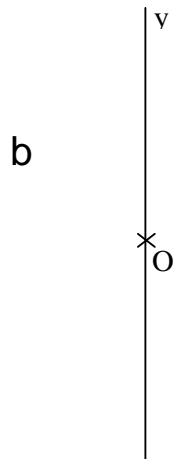
10

Farito anaty boribory ny marina amin'ireto fampitahana ireto ?

- a.  $1,7 < \sqrt{2} < 1,8$
- b.  $3,9 < \sqrt{2} < 4,1$
- c.  $1,4 < \sqrt{2} < 1,5$
- d.  $\frac{1}{2} < \sqrt{2} < 1$

11

Inty misy kisary :



J

K

L

M

**Ny fifanandrifiana miohatra amin'ny hitsy (Oy) dia manova ny litera b ho :**

- a. litera p
- b. litera q
- c. litera d

N

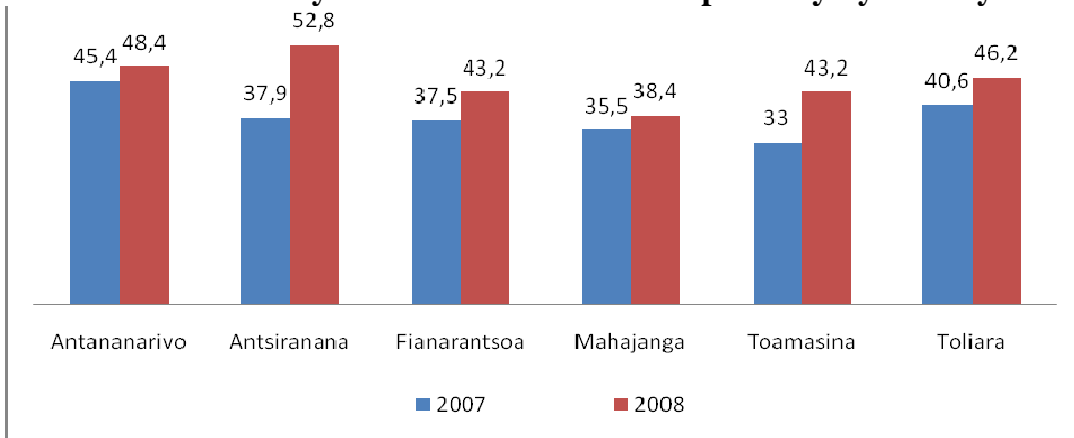
**Ny fifanandrifiana miohatra amin'ny teboka O dia manova ny litera b ho :**

- a. litera q
- b. litera p
- c. litera d

O

12

**Tahan'ny fahafahana BEPC isam-paritany ny 2007 sy 2008**



**Faritany aiza sy tamin'ny taona firy no ambony indrindra ny tahan'ny fahafaham-panadinana ?**

**(Soraty eo amin'ny teboteboka ny valiny)**

Faritany : .....

Taona : .....

P

Q

13

9 ny mpianatra 9 taona ao amin'ny kilasy iray, 17 ny 10 taona, 9 ny 11 taona ary 5 ny 12 taona. Firy ny salan-taonan'io kilasy io ?

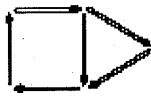
(Farito anaty boribory ny valiny)

- a. 10,25 taona
- b. 10,5 taona
- c. 11 taona

R

14

Napetraka araka ny endrika asehon'ireto kisary ireto ny tahon'afokasoka :



Kisary 1



Kisary 2



Kisary 3

Raha hanohy hanamboatra endrika hafa arak'io fomba io, firy ny tahon'afokasoka ilaina anampiana ny kisary iray mba hahazoana ny kisary manaraka ? (Farito anaty boribory ny valiny)

- a. Tahon'afokasoka 2
- b. Tahon'afokasoka 3
- c. Tahon'afokasoka 4

S

Firy ny isan'ny tahon'afokasoka ilaina raha hanoritra ny kisary 10 ?

(Farito anaty boribory ny valiny)

- a. 30
- b. 33
- c. 36

T

Natsipy indray mandeha ny vola madinika iray izay heverina fa mifandanja tsara.

Firy ny vina hampiseho ny tavan'ilay vola ?

(Farito anaty boribory ny valiny)

- a.  $\frac{1}{2}$
- b. 1
- c.  $\frac{1}{4}$
- d. 2

Natsipy indroa ny vola madinika iray izay heverina fa mifandanja tsara.

Firy ny vina hampiseho farafahakeliny indray mandeha ny tavan'ilay vola ? (Farito anaty boribory ny valiny)

- a. 1
- b.  $\frac{1}{2}$
- c.  $\frac{3}{4}$

U

V

# TEST DE COMPETENCES A LA VIE COURANTE DE 21 A 23 ANS

1

**Entoure la bonne affirmation.**

L'allaitement maternel :

- a. tarit les seins de la mère
- b. protège l'enfant contre les maladies
- c. nuit à la santé des dents de l'enfant

2

**Entoure la bonne attitude.**

Où garder les restes du déjeuner pour le dîner ?

- a. dans un endroit propre
- b. dans une assiette à découvert sur une natte ou sur la table
- c. dans un sac ou un panier

3

**Entoure la bonne attitude.**

Un malade de la tuberculose doit

- a. aller se faire soigner par un guérisseur
- b. prendre un médicament indiqué par un ami
- c. aller à l'hôpital

4

**Entoure la bonne réponse.**

Un adulte doit boire tous les jours au moins :

- a. 1,5 litre d'eau
- b. 0,5 litre d'eau
- c. 3,5 litre d'eau

5

**Entoure la bonne réponse.**

Quelle est la situation à risque face au VIH/SIDA?

- a. Etre piqué par un moustique
- b. Avoir plusieurs partenaires sexuels
- c. Serrer la main d'une personne atteinte du SIDA

A

B

C

D

E

6

**Entoure la bonne réponse.**

Comment protéger les cultures contre les insectes?

- a. Arroser d'eau les cultures tous les jours
- b. Utiliser des pesticides
- c. Raser tout ce qui est autour des cultures

F

7

**Entoure la bonne réponse.**

Que faire pour assurer la nourriture du bétail?

- a. Diminuer la quantité de nourriture de la famille
- b. Prendre soin du pâturage
- c. Brûler les herbes avant la saison de pluie

G

8

**Entoure la bonne réponse.**

Que faire pour que les crevettes et les poissons puissent se reproduire ?

- a. Jeter les restes de nourriture dans les lacs et la mer
- b. Manger uniquement les crevettes et les poissons de petite taille
- c. Respecter le calendrier de pêche autorisée

H

9

**Entoure la bonne réponse.**

Que fait-on pour protéger la forêt contre le feu ?

- a. On coupe les branches d'arbres
- b. On évite de faire du feu près de la forêt
- c. On crée une mare dans la forêt

I

10

**Entoure la bonne réponse.**

Où jeter les ordures?

- a. au bord de la rue
- b. dans une décharge
- c. à l'extérieur de son domaine

J

11

**Entoure la bonne fin de phrase.**

Mon mariage relève de :

- a. Mon unique et entière responsabilité
- b. La responsabilité de mes parents
- c. La responsabilité de mon conjoint

K

12

**Entoure la bonne attitude.**

Pendant le repas,

- a. Le père est servi et la mère attend qu'il finisse avant de manger
- b. Les enfants sont servis quand les parents ont fini de manger
- c. Toute la famille commence à manger en même temps

L

13

**Entoure la bonne attitude.**

J'envisage d'entreprendre un grand projet. Que dois-je faire en priorité ?

- a. Je fais un emprunt bancaire
- b. Je fais un devis du budget nécessaire
- c. Je commence même si le budget disponible peut ne pas suffire

M

14

**Entoure la bonne attitude.**

L'enregistrement de mon terrain ne peut pas se faire

- a. sans intermédiaire
- b. sans pot-de-vin
- c. sans frais de dossier

N

15

**Entoure la bonne réponse.**

A quel âge un citoyen peut être un électeur ?

- a. 16 ans
- b. 18 ans
- c. 21 ans

O

16

**Entoure la bonne fin de phrase.**

Pour légitimer un mariage, un homme et une femme s'unissent

- a. librement
- b. selon les conditions légales
- c. selon les us et coutumes traditionnelles

P

17

**Entoure la bonne fin de phrase.**

Pendant une discussion,

- a. Chacun a droit à la parole
- b. Ce sont les hommes qui ont le dernier mot
- c. Chacun a le droit de hausser le ton

Q

18

**Entoure la bonne fin de phrase.**

Les enfants ont droit :

- a. Au vote
- b. Au travail
- c. A la scolarisation

R

19

**Entoure la bonne fin de phrase.**

J'enverrai mon enfant à l'école quand il aura atteint l'âge de :

- a. 6 ans
- b. 8 ans
- c. 9 ans

S

20

**Entoure la réponse.**

A ton avis, qui doit s'occuper des travaux ménagers ?

- a. La mère uniquement
- b. La mère aidée par ses filles
- c. Toute la famille

T

21

**Entoure la bonne fin de phrase.**

Avec laquelle de ces propositions es-tu d'accord ?

- a. Piloter un avion est un travail réservé aux hommes
- b. Faire accoucher est une tâche consacrée aux femmes
- c. Peut prétendre à un métier celui qui a les compétences nécessaires

U

**ADINA FAHAIZA-MIAINA ANDAVANANDRO  
AN'NY 21-23 TAONA**

①

**Farito anaty boribory ny tolokevitra marina.**

Ny finonoan'ny zaza amin'ny reniny dia :

- a. mandritra ny nonon-dreniny
- b. miaro azy amin'ny aretina
- c. manimba ny fahasalaman'ny nifiny

A

②

**Farito anaty boribory ny fomba tsara atao.**

Ny ambin-tsakafo atoandro raha hohanina ny hariva dia

- a. tahirizina eo amina toerana madio
- b. tsy saromana eo ambony lambanana na latabatra
- c. atao anaty kitapo na harona

B

③

**Farito anaty boribory ny fitondrantena tsara.**

Ny mararin'ny raboka dia tokony

- a. hanatona mpitsabo nentim-paharazana
- b. hihinana fanafody atorona namana
- c. hanatona hopitaly na tobim-pahasalamana

C

④

**Farito anaty boribory ny tolokevitra marina.**

Isan'andro, ny olon-dehibe dia tokony hisotro rano farafahakeliny

- a. 1,5 litatra
- b. 0,5 litatra
- c. 3,5 litatra

D

5

**Farito anaty boribory ny tolokevitra marina.**

Mety hahazo otrik'aretina VIH/SIDA ny olona izay

- a. Voakaiketry ny moka
- b. Manao firaisana ara-nofa amina olona maro
- c. Mamihina tanan'olona voan'ny SIDA

E

6

**Farito anaty boribory ny tolokevitra marina.**

Ahoana no iarovana ny voly amin'ny bibikely ?

- a. Tondrahana rano isan'andro ny voly
- b. Mampiasa fanafody mamono bibibikely
- c. Sorohana ny manodidina ny voly

F

7

**Farito anaty boribory ny tolokevitra marina.**

Inona no atao mba hananan'ny omby sakafo ampy ?

- a. Ahena ny sakafon'ny fianakaviana
- b. Karakaraina tsara ny kijana
- c. Dorana ny bozaka alohan'ny fotoanan'ny rotsak'orana

G

8

**Farito anaty boribory ny fihetsika mendrika.**

Inona no atao mba hampitombo taranaka ny makamba sy ny trondro ?

- a. Ariana any anaty rano sy ny ranomasina ny ambin-tsakafo
- b. Tsy mihinana hafa-tsy ny makamba sy ny trondro madinika
- c. Manaja ny fotoam-panjonoana voafaritry ny lalàna

H

9

**Farito anaty boribory ny fihetsika tokony hatao.**

Inona no atao hiarovana ny ala amin'ny afo ?

- a. Tapahina ny ratsankazo
- b. Fadiana ny mandrehitra afo akaikin'ny ala
- c. Anaovana dobo any an'ala

I

10

**Farito anaty boribory ny fihetsika tokony hatao.**

Aiza no anariana ny fako ?

- a. eny amoron'arabe
- b. any anaty fitoeram-pako
- c. any ivelan'ny faritry ny tanin'ny fianakaviana tsirairay

J

11

**Farito anaty boribory ny tolokevitra marina.**

Ny fanambadiko dia :

- a. andraikitro izaho samirery
- b. andraikitry ny ray aman-dreniko
- c. andraikitry ny vadiko

K

12

**Farito anaty boribory ny fihetsika tokony hatao.**

Rehefa tonga ny fotoana hisakafoanana dia

- a. Rosoana izay laniny i Dada izay vao mihinana i Neny
- b. Rosoana izay laniny ny ray aman-dreny izay vao mihinana ny ankizy
- c. Miara-mihinana ny olona ao an-trano na ray aman-dreny na ankizy

L

13

**Farito anaty boribory ny fihetsika tokony hatao.**

Mikasa ny hanatanteraka tetikasa goavana iray aho. Inona no tokony hataoko laharam-pahamehana ?

- a. Mindram-bola any amin'ny baky aho
- b. Manao ny vinavinan'ny vola ho lany aho
- c. Manomboka aho na dia tsy ho ampy aza ny volako

M

14

**Farito anaty boribory ny toe-tsaina tokony hananana.**

Ny fanoratana ny taniko dia tsy vita

- a. raha tsy misy mpanelanelana
- b. raha tsy misy tsolotra
- c. raha tsy mandoa ny sarany ara-panjakana

N

15

**Farito anaty boribory ny tolokevitra marina.**

Firy taona ny olom-pirenena iray no afaka mifidy ?

- a. 16 taona
- b. 18 taona
- c. 21 taona

O

16

**Farito anaty boribory ny tolokevitra marina.**

Manan-kery ny fanambadian'ny lahy sy vavy izay

- a. Natao amin-kalalahana tsy misy fifamatorana
- b. Natao araka ny fepetra takian'ny lalàna velona
- c. Natao araka ny fomba amam-panao nentim-paharazana

P

17

**Farito anaty boribory ny tolokevitra marina.**

Mandritra ny adihevitra iray dia

- a. samy afaka miteny ny tsirairay
- b. ny lehilahy no manana ny teny farany
- c. samy afaka mampiaka-peo ny tsirairay

Q

18

**Farito anaty boribory ny tolokevitra marina.**

Ny ankizy dia manan-jo

- a. hifidy
- b. hiasa
- c. hianatra

R

19

**Farito anaty boribory ny tokony hatao.**

Alefako mianatra ny zanako rehefa feno

- a. 6 taona
- b. 8 taona
- c. 9 taona

S

20

**Farito anaty boribory ny tolokevitra tsara.**

Araka ny hevitrao, iza no tokony hanao ny asa ao an-tokantrano ?

- a. Ny reny ihany
- b. Ny reny ampian'ny zanany vavy
- c. Ny fianakaviana manontolo

T

21

**Farito anaty boribory ny tolokevitra tsara.**

Iza amin'ireto tolokevitra ireto no ekenao ?

- a. Ny familiana fiara-manidina dia asa voatokana ho an'ny lehilahy
- b. Ny fampiterahana dia asa voatokana ho an'ny vehivavy
- c. Afaka manao ny asa izay rehetra manana ny fahaizana ilaina

U